




۱- کارهایی که در گذشته انجام می دادی با رنگ قرمز، کارهایی که در حال انجام میدی با رنگ آبی و کارهایی که قراره در آینده انجام بدی با رنگ سبز مشخص کن.



۲- تعداد اعضای خانواده ها و نام اعضا را در زیر عکس بنویس.



۳. هادی با پدر و مادر و خواهرش زندگی می کند. مادر بزرگ و عمه اش نیز با آنها در یک خانه زندگی می کنند.

تغییراتی را که باعث کاهش تعداد اعضای خانواده هادی می شود زیرشان خط بکش.

ازدواج عمه هادی --- به دنیا آمدن یک برادر --- مرگ مادر بزرگ --- رفتن خواهر هادی به دانشگاه

۴- با توجه به جدول به سوالات جواب دهید.

کارهای خانه	شستن ظرف ها و لباس	خرید نان	جمع کردن وسایل از خانه	جارو کشیدن	خرید وسایل از بیرون	تمیز کردن حیاط
اعضا				★	★	
مادر	★		★		★	★
پدر		★	★			
خواهر	★		★	★		
مبین		★	★		★	★

الف) وظیفه جمع کردن وسایل بر عهده ی کیست؟

ب) خواهر مبین چه کارهایی انجام می دهد؟

ج) تمیز کردن حیاط را چه کسی انجام می دهد؟

معیار و سنجش	تسلط کامل	خوب	کم	خیلی کم	باز خورد
ملاک و شواهد					
مفهوم زمان را درک کرده است.					
تعداد و اعضا خانواده را تشخیص می دهد					
تغییرات در خانواده را درک می کند					
وظایف اعضا خانواده را تشخیص می دهد.					
مفاهیم علوم اجتماعی را درک کرده است					

طراح: غفار نژاد مهربانی

آموزگار ناحیه ۴ تبریز

