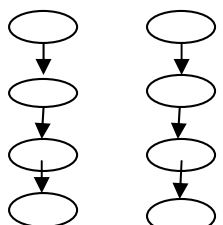
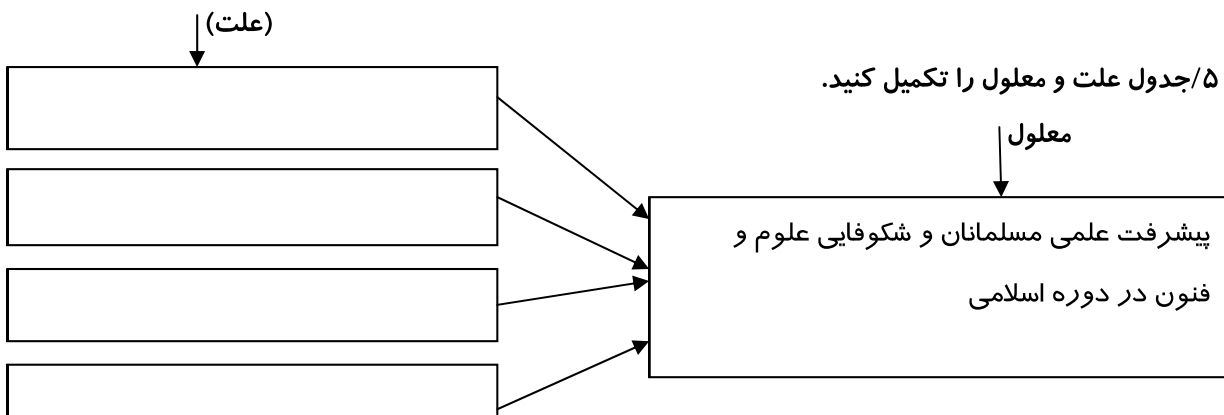











بارم	شرح سوال	ردیف
۴	<p>پاسخ صحیح را با علامت ( <input checked="" type="checkbox"/> ) مشخص کنید.</p> <p>۱/ اولین مرحله در تصمیم گیری کدام است؟</p> <p>الف: پیش بینی نتیجه تصمیم <input type="checkbox"/> ب: خوب فکر کردن <input type="checkbox"/> ج: بررسی راه حل <input type="checkbox"/> د: نتیجه گیری <input type="checkbox"/></p> <p>۲/ این سخن از کیست؟ "با نیکان همدلی و رفاقت کن تا از آنان باشی و از بدان جدا شو تا از آنان نباشی"</p> <p>الف: امام علی (ع) <input type="checkbox"/> ب: امام حسین (ع) <input type="checkbox"/> ج: امام کاظم (ع) <input type="checkbox"/> د: پیامبر (ص) <input type="checkbox"/></p> <p>۳/ کدام انرژی قابل تجدید نیست؟</p> <p>الف: باد <input type="checkbox"/> ب: آب <input type="checkbox"/> ج: هسته ای <input type="checkbox"/> د: خورشید <input type="checkbox"/></p> <p>۴/ نیروگاه اتمی ایران در کدام شهر واقع است؟</p> <p>الف: یزد <input type="checkbox"/> ب: کرمان <input type="checkbox"/> ج: ماهشهر <input type="checkbox"/> د: بوشهر <input type="checkbox"/></p> <p>۵/ کدام شهر بعد از تهران و مشهد، پر جمعیت ترین شهر ایران است؟</p> <p>الف: تبریز <input type="checkbox"/> ب: اردبیل <input type="checkbox"/> ج: اصفهان <input type="checkbox"/> د: یزد <input type="checkbox"/></p> <p>۶/ روی کدام نقشه، مکانهای دیدنی و آثار تاریخی نشان داده می شود؟</p> <p>الف: جاده ها و آزاد راهها <input type="checkbox"/> ب: گردشگری <input type="checkbox"/> ج: منابع طبیعی <input type="checkbox"/> د: پراکندگی جمعیت <input type="checkbox"/></p> <p>۷/ چه کسی درباره تقویم، محاسبه سال و ماه، اندازه گیری حرکت ماه و سیارات کتابهای زیادی نوشته است.</p> <p>الف: اسماعیل جزری <input type="checkbox"/> ب: ابن سینا <input type="checkbox"/> ج: زکریای رازی <input type="checkbox"/> د: ابوریحان بیرونی <input type="checkbox"/></p> <p>۸/ اوج شکوفایی شهر اصفهان، مربوط به کدام دوره است؟</p> <p>الف: صفویان <input type="checkbox"/> ب: اشکانیان <input type="checkbox"/> ج: سلجوقیان <input type="checkbox"/> د: هخامنشیان <input type="checkbox"/></p>	الف
۴	<p>جاهای خالی را با کلمات مناسب پر کنید.</p> <p>۱/ دوره ای که مسلمانان در پیشرفت علمی بودند و اروپاییان در جهل و خرافات بودند به ..... معروف است.</p> <p>۲/ دانشگاههای امروز جهان تقلیدی از ..... است.</p> <p>۳/ یکی از هنر های مهم در زمان صفویان ، هنر ..... بوده است.</p> <p>۴/ در دوره اسلامی به دانشمندان ..... می گفتند.</p> <p>۵/ در وسیله ای که می خریم هرچه فلش به سمت ..... نزدیک تر باشد، کارایی آن بیشتر است.</p> <p>۶/ معادن اورانیوم کشور در استان ..... است. ۷/ برق حرارتی ..... درصد از تولید برق کشور را تشکیل می دهد.</p> <p>۸/ ما بخش عمده ای از غذای خود را از راه ..... به دست می آوریم.</p>	ب

۲	<p>صحيح يا غلط بودن عبارتهای زیر را مشخص کنید. (ص) / (غ)</p> <p>۱) کشت گلخانه ای در مقایسه با سایر کشت ها در صرفه جویی مصرف آب بهتر است.</p> <p>۲) دما یکی از عوامل طبیعی است.</p> <p>۳) گوجه محصولی باغی است.</p> <p>۴) کشاورزی دارای دو مرحله است.</p> 	ج												
<p>۱/۵</p> <p>۱</p> <p>۱</p> <p>۱</p> <p>۲</p> <p>۱/۵</p>	<p>به سوالات زیر پاسخ کامل دهید.</p> <p>۱/ کتیبه چیست و از آن چه استفاده هایی می شده است؟</p> <p>۲/ خط زمان را تعریف کنید.</p> <p>۳/ چهار مکان دیدنی شهرنصف جهان کدام است؟</p> <p>۴/ چرا کشور ما می خواهد به انرژی هسته ای دست پیدا کند؟</p> <p>۵/ جدول علت و معلول را تکمیل کنید.</p>  <p>۶/ جدول زیر را کامل کنید.</p> <table border="1" data-bbox="191 1411 1428 1825"> <thead> <tr> <th>بدی ها (معایب)</th> <th>خوبی ها (مزایا)</th> <th>انرژی</th> </tr> </thead> <tbody> <tr> <td><input type="text"/></td> <td><input type="text"/></td> <td> نفت</td> </tr> <tr> <td><input type="text"/></td> <td><input type="text"/></td> <td> خورشیدز</td> </tr> <tr> <td><input type="text"/></td> <td><input type="text"/></td> <td> باد</td> </tr> </tbody> </table>	بدی ها (معایب)	خوبی ها (مزایا)	انرژی	<input type="text"/>	<input type="text"/>	 نفت	<input type="text"/>	<input type="text"/>	 خورشیدز	<input type="text"/>	<input type="text"/>	 باد	د
بدی ها (معایب)	خوبی ها (مزایا)	انرژی												
<input type="text"/>	<input type="text"/>	 نفت												
<input type="text"/>	<input type="text"/>	 خورشیدز												
<input type="text"/>	<input type="text"/>	 باد												
<p>۱</p> <p>۱</p>	<p>۷/ دو ناحیه گازی را در کشور نام ببرید؟</p> <p>۸/ دو استان شمالی تولید کننده برنج را نام ببرید؟</p> <p>With best wishes for you and yours!</p>	ه												

--	--	--